


اسم المادة: التحليل الكمي  
الزمن: 3 ساعات  
التاريخ: 2024 / /  
الدور: الاول  
نموذج رقم ( أ )



جمهورية العراق  
وزارة التعليم العالي والبحث العلمي  
جامعة تكريت  
كلية التربية للعلوم الإنسانية  
قسم الجغرافية  
المرحلة : الماجستير

## اسئلة امتحان الفصل الثاني للعام الدراسي 2023-2024

| الدرجة       | السؤال  | السؤال      |    |    |    |    |    |              |    |    |    |    |    |              |    |    |    |    |    |    |
|--------------|---|-------------|----|----|----|----|----|--------------|----|----|----|----|----|--------------|----|----|----|----|----|----|
| 14           | اجب بكلمة صح أو خطأ ثم صحح الخطأ حيثما وجد في كل مما يأتي:<br>1- التوزيع العشوائي يكون حينما تكون هناك علاقة ارتباط سالبة بين المتغير التابع والمتغير المستقل.<br>2- ان معامل الارتباط المتعدد كالارتباط البسيط والجزئي تقع قيمته بين ( صفر و + أو - 1 ) .<br>3- يتأثر المنوال بالقيم المتطرفة.<br>4- يستخدم الانحدار البسيط لدراسة العلاقة بين المتغير التابع وأحد المتغيرات المستقلة بفرض ان العوامل الاخرى ثابتة.<br>5- الخطوة الاولى لتحديد الارتكازية المكانية هي تحديد الاحداثيات الشمالية والشرقية للمركز الجغرافي بقياس المسافات التي تنحصر بين المركز واحداثياتها.<br>6- يرتبط حجم العينة ومدى تمثيلها لمجتمعها بحجم المجتمع الاصلي فقط.<br>7- الأختلاف النسبي هو حاصل قسمة الانحراف المتوسط على الوسط الحسابي $\times 100$                            | س1          |    |    |    |    |    |              |    |    |    |    |    |              |    |    |    |    |    |    |
| 14           | البيانات في الجدول تمثل مقادير انتاج ثلاث انواع من بذور القمح المحسنة بطرق مختلفة، وكان قد خصص لكل نوع منها (5 قطع) من الاراضي متساوية المساحة، المطلوب: التحقق فيما اذا كانت هناك فروقاً جوهرية في مقادير الانتاج بين العينات عند مستوى دلالة (5%)، باستخدام تحليل التباين، علما ان قيمة (ف) في الجداول الاحصائية (3,24).<br><table border="1"><tr><td>النوع الاول</td><td>26</td><td>33</td><td>32</td><td>26</td><td>33</td></tr><tr><td>النوع الثاني</td><td>18</td><td>25</td><td>24</td><td>28</td><td>25</td></tr><tr><td>النوع الثالث</td><td>12</td><td>19</td><td>16</td><td>17</td><td>16</td></tr></table>  | النوع الاول | 26 | 33 | 32 | 26 | 33 | النوع الثاني | 18 | 25 | 24 | 28 | 25 | النوع الثالث | 12 | 19 | 16 | 17 | 16 | س2 |
| النوع الاول  | 26  | 33          | 32 | 26 | 33 |    |    |              |    |    |    |    |    |              |    |    |    |    |    |    |
| النوع الثاني | 18  | 25          | 24 | 28 | 25 |    |    |              |    |    |    |    |    |              |    |    |    |    |    |    |
| النوع الثالث | 12  | 19          | 16 | 17 | 16 |    |    |              |    |    |    |    |    |              |    |    |    |    |    |    |
| 8            | فرع أ: اختر الاجابة الصحيحة لكل مما يأتي:<br>يمكن الاستفادة من مربع كاي لقياس..... ( أ - مدى تركز وتبعثر التوزيعات ب- قياس مدى التطابق بين التوزيع الحقيقي والمتوقع ج- تحليل دلالة العلاقة بين مجموعتين او اكثر من البيانات د- كل ما تم ذكره ) .<br>2- تبويب البيانات على اساس التقويم الكمي يقصد منه تقسيم البيانات الى ..... (أ- مجموعات وكل مجموعة تتبع وحدة جغرافية معينة ب- الى مجموعات كل منها له مدى معين من قيم الظاهرة ج- فرز البيانات على اساس فترات زمنية أشهر او فصول او سنوات)<br>3- يرتبط الخطأ المعياري بحجم العينة بعلاقة..... (أ- عكسية ب- طردية ج- عكسية او طردية بحسب نوع البيانات)<br>4- يستخرج التكرار المعدل من خلال ..... (أ- قسمة التكرار الاصلي على طول الفئة ب- ضرب التكرار الاصلي بطول الفئة ج- قسمة التكرار الاصلي على عدد الفئات). | س3          |    |    |    |    |    |              |    |    |    |    |    |              |    |    |    |    |    |    |

اسم وتوقيع مدرس المادة


كلية التربية للعلوم الإنسانية  
قسم الجغرافية  
أ.م.د. محمد عطية صالح

أ.م.د. عبد الرزاق جاسم احمد

٢٠٢٤

جامعة تكريت

جامعة تكريت



أسئلة الامتحانات النهائية للدراسات العليا (الماجستير) للعام الدراسي 2023 – 2024 للدور الأول

| الدرجة | السؤال | الأسئلة/ ملاحظة: الاجابة عن جميع الأسئلة   |
|--------|--------|--|
| ١٠     | ١ س    | وضح مما يأتي ١- مهارة التهيئة ٢- المناقشة ٣- التقنيات ٤- التعليم ٥- التخطيط التربوي  |
| ١٠     | ٢ س    | املاً الفراغات التالية بما يناسبها :<br>١- هنالك أربعة أهداف للتخطيط هي _____، _____، _____، _____<br>٢- في التمهيد يكون اهتمام المعلمة بالمادة. _____<br>٣- من أنواع مهارة التهيئة. _____، _____؛<br>٤- من شروط التهيئة الجيدة _____<br>٥- يمكن تقسيم معوقات دمج التقنيات في التعليم والتعلم إلى _____  |
| ١٠     | ٣ س    | ضع كلمة صح أمام العبارات الصحيحة وكلمة خطأ أمام العبارات الخاطئة وضح الخطأ<br>١ - أن التعلم التعاوني هو أسلوب تعلم يتم فيه تقسيم التلاميذ الى مجموعات صغيرة متجانسة<br>٢ - الاندماج وهي أن يعي المتعلم أنها بحاجة الى اكتساب معلومات للتعامل مع المحتوى العلمي<br>٣- التمهيد هو اهتمام المعلمة بالمشاعر والاحاسيس لدى المتعلمات<br>٤- من الوسائل والتقنيات البصرية هي السبورات والخرائط<br>٥- عرف برونز التعلم بالاكشاف هو الطريقة التي لا يعطي فيها الطلاب خبرات التعلم كاملة وإنما يبذلون جهداً حقيقياً في اكتسابه والوصول اليها . |
| ١٠     | ٤ س    | اختر الاجابة الصحيحة مما يأتي :<br>١- من أنواع الوسائل التعليمية :<br>أ- المعوقات البشرية<br>ب- التقنيات السمعية<br>ت- التقويم<br>٢- عبارة عن رسومات خطية تصاحبها احيانا أشكال هندسية لتوضيح احد أجزاء الموضوعات<br>أ- ١-المخططات<br>ب- ٢- الرسومات<br>ت- ٣- الشبكات   |




اسم المادة: تنمية زراعية ومشكلاتها

الزمن: ثلاث ساعات

التاريخ: ١٨ / ٩ / 2024

نموذج رقم (2)



جمهورية العراق  
وزارة التعليم العالي والبحث العلمي

جامعة تكريت

كلية التربية للعلوم الانسانية

قسم : الجغرافية

الدراسات العليا الماجستير


## اسئلة امتحان الكورس الاول العليا للعام الدراسي 2023-2024

| درجة السؤال | السؤال   | رقم السؤال |
|-------------|--|------------|
| 10          | <p><u>املا الفراغات الاتية</u></p> <p>1- تتحكم في تحديد الاقليم الزراعي عوامل حضارية في مثل _____ و _____ و _____</p> <p>2- يسمى الجوع الذي يحدث في المناطق النامية او غير الماهولة كما في اقاليم الهند الجافة بـ _____</p> <p>3- تختلف السياسة الزراعية من دولة الى اخرى ويأخذ ذلك صور مختلفة ابرزها _____ و _____ و _____</p> <p>4- ان مشكلة الغذاء تتمثل في _____</p> <p>5- التخطيط الاقليمي يرتبط بـ _____ الذي يحمي ويصون ويستثمر الموارد المحلية</p>   | 1س         |
| 10          | <p><u>ضع كلمة صح او خطأ وصحح الخطا</u></p> <p>1- يتكون التركيب الوظيفي للانتاج الزراعي من خمسة عناصر</p> <p>2- تتميز الاقاليم الكبرى في التصنيف على اساس العناصر الالهة والاقاليم الرئيسية على اساس العناصر الاكثر اهمية</p> <p>3- يقع اقليم (البانوس) للرعي في وسط فنزويلا</p> <p>4- يعوق التوسع في حرفة الرعي في بعض جهات استراليا زيادة اعداد القطعان</p> <p>5- هناك ثلاث انواع من التعميمات الجغرافية للاستقرار</p>  | 2س         |
| 10          | <p><u>اختر الاجابة الصحيحة</u></p> <p>1- عندما لا تكفي الدولة بالانتاج الغذائي ولا عن طريق الاستيراد فانه يصبح لديها _____</p> <p>أ- فجوة غذائية ب- عجز غذائي ج- امن غذائي نسبي</p> <p>2- يطلق على العلاقة بين التي تربط ما بين الامن الغذائي والفجوة الغذائية بـ _____</p> <p>أ- البعد السياسي ب- البعد الاقتصادي ج- البعد الاجتماعي</p> <p>3- ان من اهم المؤشرات التي تستخدم في قياس التنمية الزراعية هو المؤشر _____</p> <p>أ- الاقتصادي ب- الاجتماعي ج- السياسي</p> <p>4- لا يمكن معرفة كفاءة اي تصنيف دون النظر الى _____</p> <p>أ- الخطة ب- الهدف ج- الانواع المراد تصنيفها</p> <p>5- تختلف مدة الدورة الزراعية من _____</p> | 3س         |

اسم وتوقيع رئيس القسم  
د. محمد عطية




مدرس المادة: ا. م. د. مائل عارف عبدالرزاق



اسئلة الامتحانات النهائية للدراسات العليا الفصل الثاني/ الدور (الأول) للعام 2023 / 2024 نموذج (A)

|   |   |    |
|---|---|----|
| 1 | <p>Complete the following sentences with suitable choices. (Choose TEN only).</p> <ol style="list-style-type: none"><li>Ameer _____ the garden now.<br/>(a. is watering      b. was watering      c. are watering )</li><li>Rahma will _____ to UAE with her father.<br/>(a. traveled      b. travel      c. travels )</li><li>The Sun _____ round the Earth.<br/>(a. goes      b. go      c. went)</li><li>Sama _____ two brothers and one sister.<br/>(a. has      b. have      c. had )</li><li>The water _____ at 100 c.<br/>(a. boils      b. boil      c. boiled )</li><li>Salwa had _____ to Turkey last year.<br/>(b. traveled      b. travel      c. travels )</li><li>The students _____ to school every day at 8 o'clock.<br/>(a. went      b. gone      c. goes )</li><li>Ahmed will _____ a new car next year.<br/>(a. buys      b. bought      c. buy ).</li><li>Kamal always _____ his friend in London.<br/>(a. visited      b. visits      c. visit).</li><li>Sara shall _____ Rami to her party.<br/>(a. invited      b. invite      c. invites).</li><li>They are _____ Educational at the college.<br/>(a. studying      b. study      c. studied )</li></ol> | 20 |
| 2 | <p>Write the words in the correct order to make questions. (Choose FOUR only)</p> <ol style="list-style-type: none"><li>make / do / study plan / how often / a / you</li><li>how / to / study / do / prefer / you</li><li>usually/ study/ when/ you/ do</li><li>make / you / notes / do / when you study</li><li>do/ where/ you/ study/ to/ like</li></ol>  | 10 |
| 3 | <p>Join the following sentences by using( So ). (Choose Five only).</p> <ol style="list-style-type: none"><li>A personal diary is only for ourselves.      2a . we read the text quickly to find it.</li><li>Sami likes climbing mountains.      b . he is going to Switzerland for his holidays.</li></ol>   | 10 |

اسم وتوقيع رئيس القسم  
أ. م. د. محمد عطية صالح




اسم وتوقيع مدرس المادة  
أ. م. د. نجوى ياسين اسماعيل

اسم المادة: الاستشعار عن بعد

الزمن: ثلاث ساعات

التاريخ: ٢٠٢٤/٥

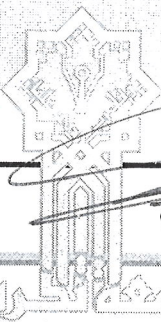
نموذج رقم (١٤)



جمهورية العراق  
وزارة التعليم العالي والبحث العلمي  
جامعة تكريت  
كلية التربية للعلوم الانسانية  
قسم : الجغرافية  
الدراسة: ماجستير

اسئلة امتحان الكورس الثاني العليا للعام الدراسي ٢٠٢٣-٢٠٢٤


| رقم السؤال | السؤال   | درجة السؤال |
|------------|--|-------------|
| ١س         | س١:- صحح العبارات الخاطئة ان وجدت:<br>١- لا تحتاج عملية التصنيف الموجه الى عينات؟<br>٢- يمثل الاستقطاع فصل معلومات غير محددة من الصور او البيانات الانعكاسية ؟<br>٣- يحدث الانتثار بالاشعة بفعل جزيئات صلبة؟<br>٤- ان المسح متعدد الاطراف يقلل من امكانية رفع الصور وزيادة دقة التفسر للصور ؟<br>٥- يسمح الموزائيك بدمج صورتين متباعدتين وغير متجاورتين ؟                                | ١٠          |
| ٢س         | املا الفراغات التالية :-<br>١- يعد الاستقطاع جزءا حاسما في معالجة الصور بسبب .....و.....؟<br>٢- تستخدم الصور الرقمية نظم.....البصرية متعددة الاطراف ؟<br>٣- تسير المدارات القطبية وتتحرك على مسارات من .....؟<br>٤- تمثل عملية ربط .....مع المكان الجغرافي احد مراحل عملية التفسر البصري ؟<br>٥- تمثل ..... المرحلة النهائية في اعداد الخريطة الغرضية حيث تتم معالجة المعطيات والنتائج ؟ | ١٠          |
| ٣س         | أ- عرف التالي:- طول الموجه ٢- المجال المرئي ٣- الضحيج ٤- التصحيح الهندسي ٥- التقييم الخرائطي<br>ب- وضح تفاعل الأشعة مع الأهداف على سطح الأرض ومركزا على امثلة ( نبات - ماء )   | ٥<br>٥      |
| ٤س         | تكلم عن مراحل الاستشعار عن بعد بالتفصيل؟   | ١٠          |



اسم وتوقيع رئيس القسم  
أ.م.د. محمد عطية

مدرس المادة: أ.م.د. محمد خليل محمد

اسم المادة: مخاطر جيومورفولوجية  
الزمن: ثلاث ساعات  
التاريخ: ٢٠٢٤/ ٢٠٢٣  
نموذج رقم ( 1 )



جمهورية العراق  
وزارة التعليم العالي والبحث العلمي  
جامعة تكريت  
كلية التربية للعلوم الانسانية  
قسم : الجغرافية  
الدراسة: ماجستير

## اسئلة امتحان الكورس الثاني العليا للعام الدراسي 2023-2024

| رقم السؤال | السؤال  | درجة السؤال |
|------------|---|-------------|
| 1س         | س1:- صحح العبارات الخاطئة ان وجدت:<br>1- تشكل المعادن الطينية حوالي 75 % من بنية الصخور الرسوبية ؟<br>2- هنالك نوعين من عوامل الضعف الصخري (ضعف نوعي- وضعف متدرج) ؟<br>3- تمثل القنوة احد وسائل ردم البحيرات الهلالية الجانبية ورفع مستوى قناة النهر؟<br>4- تعد الترب الرملية والحصوية احد المشاكل التي تواجه الاعمال الهندسية عن انشاء البنى التحتية ؟<br>5- الاجهاد الذي تسلطة المنشآت وسير المركبات الثقيلة او هبوط واقلاع الطائرات يساهم في تفتت التربة ؟ | 10          |
| 2س         | املا الفراغات التالية :-<br>1- تعد مرحلة المطابقة ..... احد خطوات تفسير الصور؟<br>2- يمثل المنحني ..... مقدار زاوية ميل الانحدار بين خطين كتوريين متتاليين؟<br>3- يتكون عدم ..... عند تعرض الطبقات الصخرية الى نشاط بركاني قبل ترسيب الطبقات العليا فيؤدي الى ميل الطبقات السفلى ؟<br>4- تمثل عملية حقن التربة ب..... احد وسائل تحسين خصائص التربة ؟<br>5- تغطي المرئية الفضائية للقمر الصناعي سبوت ..... في التصوير الراسي ؟                                 | 10          |
| 3س         | ا- يمثل التخطيط الجيومورفولوجي العمراني أهمية كبرى عند انشاء المراكز الحضرية ؟تكلم بالتفصيل مركزا على التالي ( العناصر-التحسينات المطلوبة -عوامل اختيار مواضع العمران- أسس البناء )<br>ب- عرف أربعة فقط:-<br>1- التطبيق المتدرج 2- القطاع البسيط 3- التركيب اللوزي 4- مرحلة الفيضان 5- العقد  | 10<br>10    |
| 4س         | اجب عن التالي :-<br>ا- المشاكل التي تواجه مد طرق السيارات والجسور في المناطق الهضبية وبحسب نوع الهضبة ؟<br>ب- تمثل عملية تخطيط الطرق تحدياً جيومورفولوجياً وهندسياً مهم ولكل مظهر ارضي خصوصية معينة تكلم عن اهم الإجراءات عند انشائها وضمن ثلاث أقاليم ( الجبلية -السهلية - مناطق البحيرات والمستنقعات)   | 5<br>5      |

اسم وتوقيع رئيس القسم  
أ.م.د. محمد عطية

مدرس المادة:  
أ.م.د. محمد خليل محمد  
خليل محمد المحمور  
م.د. عطية


اسم المادة: تخطيط استعمالات الارض الزراعية

ومشكلاتها

الزمن: ثلاث ساعات

التاريخ: ٢٠٢٤ / ٦ / ٦

نموذج رقم (١)



جمهورية العراق  
وزارة التعليم العالي والبحث العلمي

جامعة تكريت

كلية التربية للعلوم الانسانية

قسم : الجغرافية

الدراسات العليا ماجستير

اسئلة امتحان الكورس الثاني العليا للعام الدراسي ٢٠٢٣-٢٠٢٤

| رقم السؤال | السؤال  | درجة السؤال |
|------------|---|-------------|
| ١س         | املا الفراغات الاتية :-<br>١- تتعرض التربة الى مخاطر يجب دراستها عند تقييم الملائمة هي _____ و _____<br>٢- تتم عملية تخطيط استعمالات الارض وفق مبدئين هما _____ و _____<br>٣- وفق منهجية (FAW) فان متطلبات استعمال الارض تتخصص في ثلاثة مجموعات من العوامل هي _____ و _____ و _____<br>٤- يرمز للأراضي غير الملائمة بشكل دائم بالرمز _____<br>٥- ان برنامج Lamias هو برنامج حاسوبي يعمل في بيئة _____ وعلى مجموعة غير محدودة من _____ | ١٠          |
| ٢س         | ضع كلمة صح او خطأ وصحح الخطا ان وجد<br>١- تتطلب عملية تقييم الاراضي اختبار بديل واحد عند المقارنة<br>٢- تكون نقاط تدقيق الحقل ب G.P.S موزعة عشوائيا في كامل منطقة الدراسة<br>٣- هناك نمطان متبعان في تخطيط استعمالات الارض هما التخطيط من الاساس والتخطيط لإعادة تأهيل الاراضي<br>٤- يدل الرمز (N1) على وجود محدد للأرض نهائي<br>٥- يتكون النظام الامريكي لتصنيف قابلية الارض من (سبعة مستويات)                                       | ١٠          |
| ٣س         | كلفنا بأجراء بحث عن تخطيط استعمالات الارض الزراعية في منطقة جغرافية ما بين ما يلي :<br>١- تفاصيل المراحل الاربعة لعملية تخطيط استعمالات الارض<br>ب- بين اهم الأدوات والبرمجيات والخرائط المطلوبة<br>ج- صمم خطة بحث اولية متضمنة الاطار النظري كاملا   | ١٢          |
| ٤س         | أ- ترجم المصطلحات الاتية :-<br>١- تخطيط استعمالات الارض ٢- الملائمة الزراعية ٣- اوليات المزارعين ٤- خصائص الارض<br>ب- ارسم مخطط منهجية العمل  | ٨           |
| ٥س         | عرف ما يأتي :-<br>١- كشف التغير ٢- الملائمة المكانية ٣- تقييم الارض وفق FAO ١٩٩٣ ٤- LAMis   | ٨           |
| ٦س         | أ- ارسم صفوف الملائمة للبرنامج LAMis مع الرموز والعوامل<br>ب- حدد عوامل تقييم استعمالات الارض وفق FAO ١٩٨٤  | ١٠          |
| ٧س         | كلفنا بأجراء دراسة عن التخطيط للاستعمال الافضل لأراضي منطقة جغرافية معينة بين بالتفصيل ما يأتي  |             |

اسم وتوقيع رئيس القسم  
د. محمد عطية

6 06. 2024

مدرس المادة: ا.م.د. مائل عارف عبدالرزاق


اسم المادة: دراسات في الجغرافية السياسية

الزمن: ثلاث ساعات

التاريخ: ١٧ / ٩ / ٢٠٢٤

الدور: الثاني

نموذج رقم (2)



جمهورية العراق  
وزارة التعليم العالي والبحث العلمي  
جامعة تكريت  
كلية التربية للعلوم الانسانية  
قسم الجغرافيا  
المرحلة: ماجستير / الفصل الاول

### اسئلة الامتحانات النهائية للعام الدراسي 2023-2024 م

| رقم السؤال | السؤال  | درجة السؤال |
|------------|---|-------------|
| 1س         | أ- ناقش العبارة الاتية : محور الجغرافية السياسية هي الدولة ؟  | 6           |
|            | ب- ماهي اوجة الاختلاف بين الاقليم السياسي والافليم الجغرافي ؟   | 6           |
| 2س         | أ- ضع كلمة صح او خطأ ثم صحح الخطأ ان وجد مما يلي :-<br>1- يعتبر سيجفرايد اول من كتب في جغرافية الانتخابات عام 1912 .<br>2- مرحلة نمو الدولة تجسد بناء قوتها من الداخل والخارج .<br>3- ترجع نشأة الجغرافية السياسية الى منتصف القرن التاسع عشر . | 6           |
|            | ب- ماهي نظريات التصويت الانتخابي اذكرها بالتفصيل ؟  | 6           |
| 3س         | أ- املا الفراغات الاتية :-<br>1- يترتب على احتفاظ الدول الاعضاء في الاتحاد الكونفدرالي على .....<br>2- تصنف الدول من حيث القوة السياسية الى عدة فئات منها ..... و ..... و .....<br>3- جغرافية التمثيل تهتم بدراسة ..... و .....                 | 6           |
|            | ب- ماهو تصنيف مجالات البحث في جغرافية الانتخابات اذكرها مع شرح واحدة منها ؟   | 6           |
| 4س         | أ- تكلم عن مشروع الشرق اوسطي وانعكاسة على الرقعة الجغرافية العربية ؟  | 6           |
|            | ب- اكتب ثلاثة مصادر في الجغرافية السياسية عن كل ممايلي :-<br>1- المطبوعات الحكومية 2- الدوريات 3- الكتب   | 6           |
| 5س         | اكتب بحثا جغرافيا عن مشكلة جيوبولتيكية مختاره عن منطقة الخليج العربي وحسب خطوات البحث العلمي؟   | 17          |



اسم وتوقيع رئيس القسم  
أ.م.د. محمد عطية صالح

اسم وتوقيع مدرس المادة  
أ.د. نصيف جاسم اسود سالم



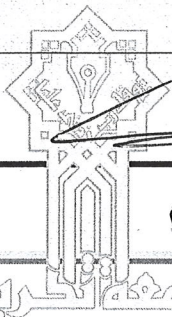


جمهورية العراق  
وزارة التعليم العالي والبحث العلمي  
جامعة تكريت  
كلية التربية للعلوم الانسانية  
قسم : الجغرافية  
الدراسة : العليا


اسم المادة : صناعية  
الزمن : ثلاث ساعات  
التاريخ : ٦ / ٦ / ٢٠٢٤  
نموذج رقم : ( ١ )

اسئلة امتحان الكورس الاول العليا للعام الدراسي ٢٠٢٣-٢٠٢٤

| رقم السؤال | السؤال  | درجة السؤال |
|------------|---|-------------|
| س١ /       | املأ الفراغات التالية بما يناسبها :<br>١ . يقصد بالكفاية الصناعية .....<br>٢ . ان الحياة الاقتصادية وخاصة الصناعية يجب ان يكون القطاع ..... حاضراً وبقوة في جميع الانشطة الصناعية<br>٣ . تعتبر البطالة المقنعة من احد ..... القطاع العام .<br>٤ . ان التوازن الطبيعي للبيئة بدأ يتعرض إلى الخلل بسبب .....<br>٥ . ان ..... تبدو واضحة في الاقاليم المركزية اكثر من المحيطة .  |             |
| س٢ /       | اكتب عبارة (صح) أو (خطأ) وصحح العبارة الخطأ :<br>١ . النمط الذي تختاره الدولة لايشترط ان يكون منسجماً مع الامكانيات المتاحة والاهداف المرجوه .<br>٢ . ان فتح الباب امام الاستثمار المحلي هو من اهم مصادر التمويل الممكنه .<br>٣ . ان احدى اسباب التخلف و ضالة فائض القيمة الذي تضيفه الصناعة من خلال عمليات الانتاج .<br>٤ . ان الاهتمام بمؤسسات البحث العلمي هي احد متطلبات نجاح عملية نقل التكنولوجيا .<br>٥ . ان القوانين التخطيطية العراقية تفتقر في اغلب بنودها إلى رؤيه ذات بعد مستدام أو رؤيه مستقبليه . |             |
| س٣ /       | ترجم المفاهيم الاتيه (لخمسه فقط) :<br>١ . النمو الصناعي<br>٢ . الصناعه<br>٣ . عوامل التوطن<br>٤ . المضاعف الصناعي<br>٥ . التنمية الصناعية<br>٦ . الصناعه التحويله   |             |
| س٤ /       | من خلال دراستك لمشكلة التلوث الصناعي بإمكانك رسم مخطط لدور الصناعة في تلوث البيئة .   |             |
| س٥ /       | تصنف الملكية الصناعية وان اختلفت التسميات إلى منشآت مملوكه للقطاع العام أو الخاص أو المختلط ومن خلال دراستك لهذه الخصائص وتفهمك للموضوع يمكنك ايجاز سلبيات القطاع الخاص .   |             |
| س٦ /       | يصعب تحديد عمق الفجوة بين الدول الناميه والدول المتقدمة في مجال الصناعة بسبب ضخامتها وضح المشكلات التي تتعلق بالدول النامية .   |             |
| س٧ /       | الاجابة عن احد الفرعين :<br>أ . ما هو الفرق بين المفهومين الصناعيين بالتفصيل (الكفاءة) و (الكفاية) .<br>ب . تكلم عن اقتطاب ومرتكزات الاستداه ؟ بالتفصيل .   |             |



اسم وتوقيع رئيس القسم  
ا.م.د محمد عطيه صالح



مدرس المادة:


أ.م.د. رعد سعيد عبد الحميد

اسم المادة: التصحر في العراق

الزمن: ثلاث ساعات

التاريخ: ٢٠٢٤/٤/٢٠

نموذج رقم ( 1 )



جمهورية العراق  
وزارة التعليم العالي والبحث العلمي

جامعة تكريت

كلية التربية للعلوم الانسانية

قسم : الجغرافية

الدراسة : الماجستير

اسئلة امتحان الكورس الثاني العليا للعام الدراسي 2023-2024

| درجة السؤال | السؤال   | الدرجة |
|-------------|--|--------|
| 10          | عرف ما ياتي :- 1- التصحر الشديد . 2- كثبان النباك . 3- الغبار المتصاعد . 4- المراعي الطبيعية . 5- التعرية الجدولية .   | 1س     |
| 10          | اختر الاجابة الصحيحة مما ياتي :-<br>1- تحدث العواصف الغبارية عندما تتجاوز سرعة الرياح .<br>أ- (2) م/ثا . ب- (3) م/ثا . ج- (4) م/ثا .<br>2- تتاثر عملية التعرية الريحية بصورة رئيسية في العراق بتظافر عاملين هما .<br>أ- المناخ والتربة . ب- المناخ والسطح . ج- المناخ والنبات الطبيعي .<br>3- تشغل النباتات الصحراوية من مجموع مساحة العراق نسبة تبلغ .<br>أ- 50% . ب- 60% . ج- 70% .<br>4- يشغل اقليم المناخ الجاف من مجموع مساحته في العراق نسبة تبلغ .<br>أ- 72,6% . ب- 82,6% . ج- 92,6% .<br>5- تظهر الكثبان الرملية في الصور الفضائية باللون .<br>أ- البني . ب- الاصفر . ج- الرصاصي . | 2س     |
| 10          | املا الفراغات الاتية :-<br>1- اوضح خولي في تعريفه للتصحر بانه هو قابلية ..... للامتداد عبر .....<br>2- التربة قليلة الملوحة تكون قيمة التوصيل الكهربائي فيها اقل من ..... ديسيمنز/م ، والمتوسطة الملوحة ..... ديسيمنز/م .<br>3- ابرز اشكال التعرية المائية هي ..... و.....<br>4- اقليم التعرية المائية الطفيفة في العراق ينحصر بين خطي المطر ..... و..... ملم<br>5- الكثبان الهلالية هي النوع السائد في العراق بسبب سيادة ..... و..... السطح .   | 3س     |

اسم وتوقيع رئيس القسم  
أ.م.د. محمد عطية صالح



مدرس المادة: أ.د. علي أمخلف سبع


اسم المادة: مشكلات هايدرولوجية

الزمن: ثلاث ساعات

التاريخ: ٢٠٢٤ / ٦ / ٢٠

الدور: الاول


نموذج رقم ( ١ )



جمهورية العراق  
وزارة التعليم العالي والبحث العلمي  
جامعة تكريت  
كلية التربية للعلوم الانسانية  
قسم : الجغرافية  
المرحلة: الماجستير/طبيعي

اسئلة الامتحانات النهائية للعام الدراسي ٢٠٢٣-٢٠٢٤

| رقم السؤال | السؤال  | درجة السؤال                                 |
|------------|---|---|
| ١س         | تكلّم عن مشكلة السياسة المائية مع الدول المتشاطنة ، مبينا اهم المواقف التركية والايرانية ،موضحا اهم المتطلبات لحل هذه المشكلة؟  | ١٢ درجة                                     |
| ٢س         | علل ماياتي<br>١-تعد قضية التخلص من المياه العادمة تحديا خطيرا يواجه الكثير من الدول حول العالم .<br>٢. نظرا لكون العراق دولة مصب لنهري دجلة والفرات نجده اكثر المتضررين من السياسات التي تنفذها دول الجوار<br>٣- يصنف التلوث الكيميائي للماء من اهم المشاكل التي تواجه الانسان المعاصر.<br>٤-النقص الحاصل للمياه الواردة الى العراق ادى الى وجود مشاكل تتمثل باتساع رقعة التصحر والتملح.<br>٥-تعاني المناطق الجافة وشبه الجافة من ازمة المياه الصالحة للشرب .<br>٦-تتباين نسجة التربة للاحتفاظ بالماء والعناصر الغذائية للنبات من حيث نعومتها وخشونتها.   | ١٢ درجة                                     |
| ٣س         | اختر الاجابة الصحيحة<br>١-ظاهرة مناخيه تتميز بحدوث تغيرات جويه مفاجئه هي :<br>أ-التطرف المناخي ب- التغير المناخي ج-التقلب المناخي<br>٢-من اهم المشاكل الخطيره التي تسبب تدمير معظم مصادر المياه العذبه حول العالم<br>أ-تلوث المياه ب- استهلاك المياه الزائد ج- الصراعات البشريه<br>٣-مجموعة الفراغات الموجودة بين دقائق الترب الهايدرولوجية تسمى :<br>أ-مسامية الترب ب- نسجة الترب ج- قوام الترب<br>٤-مناطق ذات لون داكن تظهر على سطح الشمس هي<br>أ-الهباء الجوي ب البقع الشمسية<br>٥-استخدام التقنيات الموجه للحفاظ على نظافة الموارد المائية وحمايتها من التلوث والضياح تسمى :<br>أ-صيانة الترب ب-صيانة المياه ج- صيانة المياه والتزبه<br>٦-عدم وجود ما يكفي من الموارد المائية المتاحة لتلبية جميع الاستخدامات يسمى<br>أ-شحة المياه ب-ندرة المياه ج- ازمة المياه | ١٢ درجة                                     |
| ٤س         | املاء الفراغات التاليه بما يناسبها.<br>١-ان التغير المناخي الهايدرولوجي يشمل تغيرا اكثر تحديدا يتمثل بـ _____ و _____<br>٢-نظرية جيولوجيه قدمت تغيرا للعاملين في مجال المناخ والهايدروجيولوجيا تدعى _____<br>٣-من اهم الحلول المقترحه للحفاظ على المياه وتفاذي مشاكلها هو _____ و _____<br>٤- _____ هو تغير في الخصائص الطبيعيه للماء مما يجعله غير مستساغ للاستخدام البشري<br>٥-من اهم اضرار التلوث البيئي النفطي هو _____ و _____ و _____   | ١٠ درجة                                     |
| ٥س         | بين مايلي<br>أ-عدد خمسا من طرق الحد من تلوث الماء<br>ب- بين اهم مشاكل التربه وسبل معالجتها  | ١٢ درجة                                     |
|            | اسم وتوقيع رئيس القسم<br>أ.م.د. محمد عطية صالح  | اسم وتوقيع مدرس المادة<br>أ.د. دلي خلف حميد |



اسئلة الامتحان النهائي للعام الدراسي ٢٠٢٣-٢٠٢٤

| رقم السؤال | السؤال  | درجة السؤال |
|------------|---|-------------|
| ١س         | اصبحت التجارة الالكترونية ذات تأثير جوهري على اسلوب ادارة الانشطة الاقتصادية ، وممارسة الاعمال التجارية وما يتصل بها من خدمات، كما وامتد تأثيرها ليشمل العلاقات التي تحكم قطاعات الاعمال والمستهلكين بشكل كبير ، وضح ذلك الدور بتفصيل.  | ١٥          |
| ٢س         | يظهر دور النقل في تحقيق التنمية المستدامة ،من خلال تعريف التنمية ومبادئها ، اهدافها وخصائصها ونظرياتها ومؤشرات قياسها، تناول علاقة هذا النشاط بأبعاد التنمية الاقتصادية والاجتماعية والبيئية.   | ١٠          |
| ٣س         | تعد مشكلة الاختناقات المرورية في الوقت الحاضر من ابرز المشاكل التي يعاني منها سكان المدن الكبيرة بسبب الزيادة الحاصلة في اعداد المركبات وكذلك اعداد السكان ، تكلم عن هذه المشكلة بالتفصيل مع ذكر الامثلة التوضيحية لذلك.  | ١٠          |
| ٤س         | ضع كلمة (صح) امام العبارة الصحيحة وكلمة (خطا) امام العبارة الخاطئة ثم صحح الخطأ<br>١- ان العقدة التي ترتبط ببقية عقد الشبكة عبر اقل قدر من الاطوال هي اقل في امكانية الوصول الى بقية عقد الشبكة.<br>٢- تتراوح قيمة بيتا بين الصفر وواحد صحيح ويعني الصفر ان الشبكة تتكون من وصلات فقط.<br>٣- هناك مؤشر اخر لكاتسكي يعطي فكرة عن انتشار الشبكة يسمى مؤشر الفا.<br>٤- تصنف مواقف السيارات حسب الاعداد المتزايدة للسيارات الى نوعين من المواقف.<br>٥- يركز علم الاقتصاد على دراسة العلاقة بين نظم النقل والنظم الاقتصادية. | ١٠          |
| ٥س         | ترتبط الطرق وظيفيا ببعض المرافق الضرورية التي تشغل حيزا مهما من الارض وخصوصا في المدن الكبيرة ، او على امتداد الطرق الدولية او الاقليمية ، وتتكامل هذه المرافق مع الطرق وان نقصها او قلة كفاءتها تنعكس سلبا على اداء الطريق ، وضح اهم المرافق الخدمية الخاصة بالنقل الحضري.   | ١٠          |
| ٦س         | املا الفراغات الاتية:<br>١- تتمثل اهم اسهامات علم جغرافية السكان في عملية التحليل الاحصائي ..... و..... وتأثيرها الكبير في مجموع الرحلات اليومية للسكان.<br>٢- يمكن ان نميز بين ثلاث اشكال من البنية الاساسية للشبكات وهي ..... و..... و.....<br>٣- قانون مؤشر الفا يساوي.....<br>٤- كثافة حركة المرور بالنسبة للمساحة.....<br>٥- يعتمد نموذج الجاذبية على دراسة عاملين هما ..... و.....<br>٦- يستخدم مؤشر الانعطاف في تقييم نتائج اضافة وحذف ..... في شبكات النقل.   | ١٥          |

مع تمنياتنا لكم بالنجاح والموفقية

اسم وتوقيع رئيس القسم  
أ.م.د. محمد عطية

مدرس المادة:  
أ.م.د صباح عثمان عبدالله


4 06 2024

اسم المادة: دراسات سكانية

الزمن: ثلاث ساعات

التاريخ: ٢٠٢٤/٩/٢٠

نموذج رقم (٢)



جمهورية العراق  
وزارة التعليم العالي والبحث العلمي  
جامعة تكريت  
كلية التربية للعلوم الانسانية  
قسم: الجغرافية  
الدراسة: العليا / ماجستير بشري

اسئلة امتحان الكورس الثاني العليا للعام الدراسي ٢٠٢٣-٢٠٢٤

| رقم السؤال | السؤال   | درجة السؤال |
|------------|--|-------------|
| س ١        | (أ) ما هي الاثار المرتبة على الهجرة سواء في الدول الطارده او المستقبله للمهاجرين.<br>(ب) علل ما يأتي:<br>بلغ دليل التنمية البشرية في العراق لعام ٢٠٢٢ (٠,٦٩١) وفي اليابان (٠,٩١٦) مبينا أسباب هذا التباين والمتغيرات المؤثرة عليه.   | ٧ د         |
| س ٢        | حلل بالتفصيل احدى رسائل الماجستير او الدكتوراه في تخصص جغرافية السكان والتي تم الاطلاع عليها من حيث أهمية الدراسة والخطة البحثية ومصادر الحصول على البيانات.   | ١٤ د        |
| س ٣        | أجب بـ (صح) او (خطا) مع تصحيح العبارة الخاطئة:<br>١. ارتفاع نسبة النوع لسكان محافظة صلاح الدين لعام ١٩٩٧.<br>٢. انخفاض معدلات التحضر في العراق لعام ٢٠٢٠.<br>٣. يميل التوزيع السكاني في العراق نحو التشتت.<br>٤. تعد محافظة البصرة من المحافظات الطارده للسكان عام ١٩٧٧.<br>٥. يحتاج السكان لمدة ٢٧ سنة لكي يتضاعف عندما ينمو بمعدل ٣% سنويا.<br>٦. من أهم أسباب الهجرة الخارجية هي العوامل السياسية والاقتصادية.<br>٧. يوصف الهرم السكاني للعراق من الاهرام ذات القاعدة الضيقة. | ١٤ د        |
| س ٤        | (أ) استخرج معدل النمو السكاني لمحافظة ذي قار إذا علمت ان عدد سكانها لعام ٢٠٠١ (٩٨٥٦٤١) نسمة ولعام ٢٠٢٣ (١٩٨٨٦٦٧) نسمة.<br>(ب) استخرج حجم السكان المتوقع لمحافظة نينوى لعام ٢٠٣٣ إذا علمت ان عدد سكانها لعام ٢٠٢١ (٣٩٨٨٦٥٤) نسمة وان معدل النمو المتوقع ٢,٠٣% سنويا.  | ٧ د         |
| س ٥        | ضع الإجابة الصحيحة:<br>١. ثلاثة مقاييس للخصوبة السكانية مع المعادلات.<br>٢. ثلاثة طرائق لقياس الهجرة الداخلية.<br>٣. ثلاثة مقاييس للوفيات مع المعادلات.<br>٤. ثلاثة متغيرات مؤثرة على العمر المتوقع للإنسان.<br>٥. ثلاثة اختلالات هيكلية في التركيب الزواجي لسكان العراق.<br>٦. ثلاثة متغيرات مؤثرة في نسبة النوع للسكان.<br>٧. معدل النشاط الاقتصادي للسكان = (اذكر المعادلة).  | ١٤ د        |

رئيس القسم  
ا.م.د محمد عطية صالح



مدرس المادة:  
أ.د. نجم عبد الله احمد