


اسم المادة: صناعية  
الزمن: ثلاث ساعات  
التاريخ: ٢٠٢٤/ ٥/ ٢٤  
الدور: الاول  
نموذج رقم ( ١ )



جمهورية العراق  
وزارة التعليم العالي والبحث العلمي  
جامعة تكريت  
كلية التربية للعلوم الانسانية  
قسم : الجغرافية  
المرحلة: الثالثة

اسئلة الامتحان النهائي للعام الدراسي ٢٠٢٣-٢٠٢٤

درجة السؤال	السؤال	رقم السؤال
	أملأ الفراغات التالية: ١- تعتبر ..... المسرح الحقيقي للنشاط الصناعي الذي يعد الانسان المحرك الرئيس له. ٢- يقاس التنوع الصناعي على ..... في النشاط الصناعي. ٣- نقصد ب ..... مجموعة من المعايير التي تحقق اهدافاً استراتيجية عند توطين الوحدات الصناعية. ٤- يمكن ان يكون عنصر ..... المحدد الرئيسي للتوطن. ٥- ان اسلوب التحليل ..... هو الاسلوب الشائع على النظريات	١س
	ضع كلمة (صح) او (خطا). ١- ان وجود المادة الخام فقط لا يكفي لقيام الصناعة او توطنها . ٢- يعتبر النقل المائي في الماضي هو المؤثر الوحيد في توطن الصناعة. ٣- يعتمد حجم السوق على السكان ودخل الفرد. ٤- ان العلاقة بين التطور التقني والعلمي هي علاقة عكسية من خلال مستويات التصنيع. ٥- تهدف التنمية الاقليمية الى التقليل من النشاط الانتاجي العام.	٢س
	اختر الاجابة الصحيحة ١- المعيار الاساس لتوقيع المشاريع الاقتصادية. أ- الجزئي الساكن ب- الريحية الوطنية ج- وزن المنتجات ٢- مرت نظريات اقتصاديات الموقع الصناعي بمراحل أ- ثلاثة ب- اربعة ج- خمسة ٣- يقصد به اختيار مناطق النمو من بين الاقاليم الاقل نمواً في الدولة أ- التنمية الصناعية ب- التنمية الاقليمية ج- التثنت الانتقائي ٤- تطلع للمستقبل من خلال النهوض بالخصوصية ودفعها الى المستوى العالمي. أ- العالمي ب- العولمة ج- عولمة الاعلام ٥- يمكن عده من ضمن النشاط الهدمي و التخريبي أ- النشاط الصناعي ب- النشاط الزراعي ج- النشاط التحديثي	٣س
	انسب هذه التفسيرات الى العلماء : ١- نظرية الموقع ذي الكلف الادنى. ٢- نظرية القطاعات. ٣- نظرية اختلاف في العمال وكلفة النقل. ٤- نظرية النطاقات المشتركة. ٥- نظرية تكاليف الحد الادنى للنقل.	٤س
	عرف التخطيط وماهي متطلبات التخطيط الصناعي؟ بعد ظهور السيارات تضائل دور سكك الحديد في مجال النشاط الصناعي (ناقش ذلك).	٥س
		٦س

الاجابه على خمسة اسئلة فقط

اسم وتوقيع رئيس القسم  
ا.م.د محمد عطيه صالح

مدرس المادة: ا.م.د رعد سعيد عبدالحميد


اسم المادة: جغرافية الامريكيتين

الزمن: ثلاث ساعات

التاريخ: ٢٠٢٤/٥/٢١

الدور: الاول

نموذج رقم (1)



جمهورية العراق  
وزارة التعليم العالي والبحث العلمي

جامعة تكريت

كلية التربية للعلوم الانسانية

قسم: الجغرافية

المرحلة: الثالثة

## اسئلة الامتحان النهائي للعام الدراسي 2023-2024

ملاحظة: الاجابة عن خمسة اسئلة فقط

رقم السؤال	السؤال	درجة السؤال
1س	املا الفراغات التالية بما يناسبها ولكل مما يأتي:- 1- يعد شهر ..... من ابرد اشهر السنة في قارة أمريكا الشمالية 2- تسمى العواصف القطبية التي تتعرض لها الجهات الداخلية من كندا والولايات المتحدة ب ..... 3- تعد تربة ..... تربة فقيرة قليلة العمق و ذات نسجة اسفنجية المقام. 4- تكونت معالم السطح في قارة أمريكا الشمالية نتيجة لعدة حركات هي ..... و..... و..... 5- من المحاصيل الزراعية الصناعية في قارة أمريكا اللاتينية هي ..... و..... و.....	10
2س	ضع كلمة (صح) امام العبارة الصحيحة وكلمة (خطأ) امام العبارة الخاطئة وصحح الخطأ أينما وجد ولكل مما يأتي:- 1- يحتل الإقليم الاطلنطي الأوسط مركز الثقل البشري منذ استيطان قارة أمريكا الشمالية. 2- تعتبر مرتفعات كولومبيا احد مراكز الحضارة الهندية حيث عاش هنود جيجا. 3- تتألف قارة أمريكا الشمالية من ثلاث وحدات إدارية. 4- يعتبر الأمان والبرتغال سكان قارة أمريكا الشمالية الاصليون. 5- نتج عن تزاوج الاوربيون مع الافارقة سلالة بشرية جديدة يطلق عليها اسم الزامبو	10
3س	قبل ان يصل الاوربيون الى قارة أمريكا اللاتينية كان هالك مراكز للحضارة الهندية ماهي هذه المراكز وماهي الحضارات الهندية التي وجدت فيها؟	10
4س	أ/ يتحكم في توزيع درجة الحرارة في فصل الشتاء عدة عوامل عددها؟ ب/ تقسم التربة في قارة أمريكا الشمالية على أساس الغطاء النباتي الى عدة أنواع عددها؟	10
5س	تميزت حركة السكان وانتقالهم من جهة الى أخرى في قارة أمريكا الشمالية بعدة أنواع من الهجرة ناقش ذلك مفصلاً	10
6س	تميزت قارة أمريكا اللاتينية بتنوع اقسام السطح فيها ناقشها مفصلاً	10

مع تمنياتنا لكم بالنجاح والموفقية

اسم وتوقيع رئيس القسم  
أ.م.د. محمد عطية

20.05.2024

مدرس المادة:  
م.م. عبدالله احمد عبدالله العبيدي


اسم المادة: جغرافية السياحة

الزمن: ثلاث ساعات

التاريخ: ٢٠٢٤/ ٧/ ١

الدور: الاول

نموذج رقم ( ١ )



جمهورية العراق  
وزارة التعليم العالي والبحث العلمي  
جامعة تكريت  
كلية التربية للعلوم الانسانية  
قسم : الجغرافية  
المرحلة: الثالثة

اسئلة الامتحان النهائي للعام الدراسي ٢٠٢٣-٢٠٢٤

ملاحظة : الاجابة عن خمسة اسئلة فقط

رقم السؤال	السؤال	درجة السؤال
١ س	عرف كل مما يأتي (خمس فقط) : 1. جغرافيه السياحة 2. السانح 3. الترفيه 4. الموقع الفلكي 5. السياحة الدينية 6. الالهوار.	١٠
٢ س	تكلم مفصلاً عن الانعكاسات السلبية لجائحة كورونا على حركة السياحة العالمية .	١٠
٣ س	عدد مفصلاً مع الشرح اهم المصايف السياحية في محافظة دهوك .	١٠
٤ س	املاً الفراغات التالية: 1. يمكن تقسيم مناخ العراق الى ثلاثة انواع ..... و..... 2. تتنوع الفعاليات والانشطة السياحية والترفيهية تبعاً للاختلاف في ..... و..... 3. تعاني الخريطة السياحية من عدة مشاكل ..... و..... 4. هناك مجموعة من العوامل التي ساهمت في تكوين السياحة ..... و..... 5. هناك معيارين اساسيان لدراسة الظاهرة السياحية ..... و.....	١٠
٥ س	قارن بين نقاط الترابط والاختلاف في السياحة والترفيه واصنافها ومقاييسها .	١٠
٦ س	المرشد السياحي ودوره في النهوض بالواقع السياحي واهم صفاته.	١٠

مع تمنياتنا لكم بالنجاح والموفقية



اسم وتوقيع رئيس القسم  
أ.م.د. محمد عطية

مدرس المادة:  
م.م ريم طاهر ابراهيم


اسم المادة: جغرافية الموارد الطبيعية

الزمن: ثلاث ساعات

التاريخ: / / 2024

الدور: الأول

نموذج رقم ( 1 )



جمهورية العراق  
وزارة التعليم العالي والبحث العلمي  
جامعة تكريت  
كلية التربية للعلوم الانسانية  
قسم: الجغرافية  
المرحلة: الثالثة

اسئلة الامتحان النهائي للعام الدراسي 2023-2024

### ملاحظة : الإجابة عن خمس اسئلة

رقم السؤال	السؤال	درجة السؤال
س1	عرف لخمس مما يأتي:- 1-الموارد الطبيعية 2- المنهج السببي 3- الدبال 4- مقطع التربة 5- التربة المتداخلة 6- حشائش السافانا	10
س2	ضع كلمة ( صح ) أمام العبارة الصحيحة، وكلمة ( خطأ ) أمام العبارة الخاطئة ، ثم صحح الخطأ إن وجد. 1. يعد لون المواد العضوية الغامقة في التربة إلى ارتفاع مادة الدبال. 2. إن قلة العناصر المعدنية في التربة دل على أن التربة غير صالحة للاستخدام. 3. إن الجهات الجافة تمتاز بارتفاع معدلات التبخر وقلة التساقط مما يجعلها تشتهر بالترب الملحية. 4. لا تسود تربة الهيدرومورفك في المناطق الجافة. 5. من أحد شروط صيانة الترب من التعرية الريحية هي عملية التشجير. 6. يطلق على النباتات التي تعيش لمدة سنة هي النباتات السنوية.	10
س3	صنفت النباتات حسب كمية المياه إلى عدة أصناف، عددها ثم اشرحها؟	10
س4	قارن بين التربة النطاقية والتربة الهامشية؟	10
س5	فسر كيف تؤثر درجات الحرارة على النبات الطبيعي؟	10
س6	اذكر أهم الموارد البشرية في محل سكنك؟	10

اسم ونوفايع رئيس القسم  
ا.م.د محمد عطيه صالح

مع تمنياتي لكم  
بالنجاح الباهر

مدرس المادة: م.م. عبدالله ذخيل حسن


18. 05. 2024

اسم المادة: جغرافية الزراعة

الزمن: ثلاث ساعات

التاريخ: ٧ / ٥ / ٢٠٢٤

نموذج رقم (١)



جمهورية العراق  
وزارة التعليم العالي والبحث العلمي  
جامعة تكريت  
كلية التربية للعلوم الانسانية  
قسم: الجغرافية  
الدراسة: الاولى

## اسئلة امتحان النهائي للعام الدراسي ٢٠٢٣-٢٠٢٤

رقم سؤال	السؤال	درجة السؤال
١س	<p><u>املا الفراغات</u></p> <p>١- إقليم القمح في شمال وغرب الولايات المتحدة يتركز في منطقة _____ و _____</p> <p>٢- يتركز انتاج التبغ في الصين في _____ و _____</p> <p>٣- من فواكه المناطق المدارية _____ و _____</p> <p>٤- لنمط الزراعة الواسعة شرطين هما _____ و _____</p> <p>٥- أنواع الموز الرئيسية نوعان هما _____ و _____</p>	١٠
٢س	<p><u>ضع كلمة صح او خطأ امام العبارة المناسبة:</u></p> <p>١- تسود زراعة العنب في المناطق المحصورة بين دائرتي عرض ٢٠ - ٥١ جنوبا و ٢٠ - ٤٠ شمالا</p> <p>٢- افضل معدل لدرجات الحرارة الملائمة لنمو مختلف أنواع الحمضيات تتراوح بين ٢٢ - ٢٠ مئوية</p> <p>٣- هناك اغنام الفراء ومنها اغنام الكراكون</p> <p>٤- من الدول المنتجة للعنب في العالم او كيناوا في استراليا .</p> <p>٥- تقلل الرياح الباردة جدا من حيوية حبوب اللقاح وقد تلتفها</p>	١٠
٣س	<p><u>اختر الاجابة الصحيحة:-</u></p> <p>١- تحتاج الحمضيات الى نسبة عالية من _____ أ- الرطوبة ب- الحرارة ج- الرياح</p> <p>٢- ينتج المطاط والكاكاو في وسط افريقيا والمناطق المطلة على خليج _____ أ- تنزانيا ب- عدن ج- غانا</p> <p>٣- ارتفاع الحرارة اكثر من _____ يفقد الحيوان شهيته أ- ٢٠ درجة مئوية ب- ٣١ درجة مئوية ج- ٤١ درجة مئوية</p> <p>٤- في تركيا ينتج بنجر السكر في القسم الداخلي من هضبة _____ أ- الاناضول ب- التبت ج- أرمينيا</p> <p>٥- من فواكه المناطق الاستوائية هي _____ أ- الموز والاناناس ب- المشمش والتفاح ج- الخوخ والرمان</p>	٣٠
٤س	<p><u>عرف مما يأتي</u></p> <p>١. جغرافية الزراعة ٢. درجة الحرارة المتجمعة ٣. النمط الزراعي ٤. الزراعة الواسعة ٥. مزارع الدولة</p>	١٠
٥س	<p>اجب عن ما يأتي:-</p> <p>أ- اين تتوزع جغرافيا الزراعة العلمية في العالم ؟</p> <p>ب- ماهي الاثار الإيجابية للرياح ؟</p>	١٠
٦س	<p>١- قسم أنواع المحاصيل حسب الأهمية الاقتصادية مع ابرز الأمثلة</p> <p>ب- ماهي ابرز مناهج جغرافية الزراعة اذكرها مع المميزات والعيوب</p>	١٠

اسم وتوقيع رئيس القسم  
د محمد عطية

27.05.2024

مدرس المادة:

ا. م. د مائل عارف السعيد


اسم المادة: جغرافية المدن

الزمن: ٣ ساعة

التاريخ: ٢٠٢٤ / ٥ / ٢٥

الدور: الاول

نموذج رقم (١)



جمهورية العراق  
وزارة التعليم العالي والبحث العلمي

جامعة تكريت

كلية التربية للعلوم الانسانية

قسم: الجغرافية

المرحلة:- الثالثة

اسئلة الامتحانات النهائية للدراسة الاولى للعام الدراسي ٢٠٢٣-٢٠٢٤

رقم السؤال	السؤال	درجة السؤال
س١:	ملاحظة : الاجابة عن خمسة اسئلة فقط املا الفراغات التالية ١- في طريقة مورفي وفينيس تستخدم الرموز لتحديد ..... ٢- ان الكثافة الاجمالية تستخرج لمعرفة عدد السكان و ..... ٣- ان مساحة الطرق داخل المدينة حسب دراسة بارثيلميو تقدر ب ..... % ٤- ..... يتم من خلاله التعرف على المدن المتشابهة . ٥- ان دراسة العوامل التي تؤثر على نوع وحجم ومواقع الوظائف في المدينة تسمى .....	١٠ درجة
س٢:	اجب عن فرعين فقط أ- عدد فقط الانماط الموقعية لاستعمالات الارض الصناعية في مدينة بغداد الكبرى ؟ ب- عدد فقط مساوي القطاع المركزي داخل المدينة ج- عدد تصنيف (بول سيرفس) لشبكة الطرق داخل مدينة بغداد	١٠ درجة
س٣:	اشرح بالتفصيل الاسس التي يتم بها التمييز بين الريف والمدينة	١٠ درجة
س٤:	اجب عما يأتي أ- بين الفرق بين المصطلحات الاتية التسلط ، التدرج ، التمييز الوظيفي ، التحدي ، التراجع ب- عدد مع شرح واحدة فقط انواع التصنيف البنوي للمدن	١٠ درجة

اسم وتوقيع رئيس القسم

أ.م.د. محمد عطية صالح



اسم وتوقيع مدرس المادة

أ.م.د. رياض عبدالله احمد

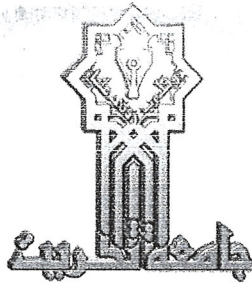
اسم المادة: طرائق تدريس

الزمن: ثلاث ساعات

التاريخ: ٥ / ٦ / ٢٠٢٤

الدور: الاول

نموذج رقم ( ١ )



جمهورية العراق  
وزارة التعليم العالي والبحث العلمي  
جامعة تكريت  
كلية التربية للعلوم الانسانية  
قسم : الجغرافية  
المرحلة: الثالثة

اسئلة الامتحان النهائي للعام الدراسي ٢٠٢٣-٢٠٢٤

سرقم السؤال	السؤال	درجة السؤال
١س	ضع كلمة (صح) امام العبارة الصحيحة وكلمة (خطأ) امام العبارة الخاطئة . ١- من شروط الأهداف الجيدة ان تكون محددة وواضحة . ٢- تتطلب الطريقة القياسية البدء من الجزء الى الكل . ٣- في اختبار التكميل يعطى الطلبة عدد من العبارات او الكلمات ويطلب منه تجميع بعضها ٤- يراعي الهدف السلوكي ان يكون المدرس هو الفاعل للفعل . ٥- تبدأ طريقة الاكتشاف الحر من حب الاستطلاع الطبيعي والفضول العلمي للطلبة .	١٠
٢س	عرف خمساً مما يأتي: ١- طرائق التدريس ٢- التحصيل ٣- التدريس المصغر ٤- التعلم الالكتروني ٥- السبورة ٦- المفهوم العام .	١٠
٣س	املاً الفراغات الآتية بما يناسبها : ١- يرجع ابتكار التعليم المبرمج الى العالم ..... ٢- صنفت الأهداف التعليمية الى ثلاث مجالات ..... و ..... و ..... ٣- ان معايير صياغة أهداف التدريس هي ..... و ..... و ..... ٤- تقسم الاهداف التدريسية الى قسمين ..... و ..... ٥- لقد لخص (هايت) عام ..... طريقة المحاضرة .	١٠
٤س	صمم خطة تدريسية يومية في مجال اختصاصك مبيناً فيها جميع خطوات الخطة النموذجية ؟	١٠
٥س	١- هناك العديد من الاسئلة الشفوية التي يستخدمها المدرس اثناء تنفيذ الدرس عددها ؟ ٢- تشتق الاهداف من عدة مصادر عددها مع الشرح المركز ؟	١٠
٦س	يعتبر التدريس من الطرق الفعالة والاساسية في العملية التربوية بين المعلم والمتعلم ؟	١٠

ملاحظة : الاجابة عن خمسة اسئلة فقط

مع تمنياتنا لكم بالنجاح والموفقية

اسم وتوقيع رئيس القسم  
أ.م.ب. محمد عطية

مدرس المادة:  
م.د. اسماعيل حماش جاسم


اسم المادة: جرائم حزب البعث

الزمن: ثلاث ساعات

التاريخ: ٢٠٢٤/٥/١٤

الدور: الاول

نموذج رقم ( أ )



جمهورية العراق  
وزارة التعليم العالي والبحث العلمي  
جامعة تكريت  
كلية التربية للعلوم الانسانية  
قسم: الجغرافية  
المرحلة: الثانية

اسئلة الامتحان النهائي للعام الدراسي ٢٠٢٣-٢٠٢٤

رقم السؤال	السؤال	درجة السؤال
١٠	ضع علامة (✓) امام العبارة الصحيحة وعلامة (X) امام العبارة الخاطئة ؟ ١- اصلاح المؤسسات هو من مميزات العدالة الانتقالية . ٢- تم تتويج الملك فيصل في عام ١٩٦٨ /٨/٢٣ . ٣- تمثلت العدالة الانتقالية في تسع مؤسسات . ٤- لم ينص دستور العام (١٩٧٠) المؤقت على الحق في المشاركة العامة بشؤون البلد . ٥- العدالة الانتقالية تعد نظام يطبق في الدول التي شهدت حكماً استبدادياً .	١س
١٠	املاً الفراغات التالية بما يناسبها ؟ ١- شهد العراق في عام _____ تأسيس اول حكومة عراقية بعد قيام _____ ٢- ابرز الانتهاكات ضد الحقوق المدنية _____ و _____ و _____ ٣- كان لفرض الحصار على العراق نتائج وخيمة اذ تسبب في _____ و _____ و _____ ٤- التشاركية تعني _____ ٥- العدالة الانتقالية تبحث في كيفية _____ و _____	٢س
١٠	عدد الانظمة السياسية التي حكمت العراق منذ التأسيس الى عام ٢٠٠٣ مع شرح النظام الاول بالتفصيل ؟	٣س
١٠	أ / تكلم عن الحصار الدولي على العراق مع ذكر السبب ؟ ب / عرف ما يأتي ؟ ١- السلطة التشريعية ٢- الديمقراطية الشعبية ٣- العدالة الانتقالية ٤- السلطة التنفيذية ٥- السلطة القضائية .	٤س
١٠	عدد اهداف العدالة الانتقالية مع شرح جبر المتضرر ورد اعتبار الضحايا ؟	٥س
١٠	كيف كانت الاحداث عام ١٩٢١ ؟ وماذا حدث بعد انقلاب ١٧ / تموز / عام ١٩٦٨ تكلم عن ذلك ؟	٦س

ملاحظة الاجابة عن خمسة اسئلة فقط


اسم وتوقيع رئيس القسم  
ا.م.د محمد عطية صالح

مدرس المادة: م.م. عروبة عبدالله حميين

17-05-2024



جمهورية العراق  
وزارة التعليم العالي والبحث العلمي  
جامعة تكريت  
كلية التربية للعلوم الإنسانية  
قسم الجغرافية



المادة: ادارة تربوية  
المرحلة: الثانية  
الزمن: ثلاث ساعات  
الدور: الاول  
نموذج رقم ( 1 )

اسئلة الامتحان النهائي للدراسات الاولى للعام الدراسي 2023-2024

الدرجة	الأسئلة	رقم السؤال
10 درجة	ضع علامة صح او خطأ امام العبارات التالية وضح الخطأ ان وجد؟ 1- التقييم هو قياس مدى نجاح وسائل الادارة والاشراف على تحقيق الهدف؟ 2- التواصل مع المجتمع وتقديم افضل الخدمات من خلال التعلم التعاوني. 3- التفكير البحثي الذي يعتمد التجربة مرات متعددة؟ 4- الشورى وجمع الكلمة هي التخطيط الفعال؟ 5- التخطيط هو توجيه الرسائل والطرق نحو تحقيق هدف معين؟	س1
10 درجة	تكلم عن مفهوم الادارة في الاسلام؟	س2
10 درجة	تكلم عن مجالس الاباء والمدرسين بشكل مختصر؟	س3
10 درجة	املا الفراغات التالية بما يناسبها: 1- في الانضباط الصفي يجب ان يعالج حالات _____ 2- التواصل مع المجتمع وتقديم افضل الخدمات من خلال _____ 3- _____ تعني بث روح في المشروع وذلك بقيادة الافراد وتوجههم في مراحل تحقيق الاهداف. 4- _____ هو قياس مدة نجاح وسائل الادارة والاشراف على تحقيق الاهداف. 5- التفكير البحثي الذي يعتمد التجربة _____	س4
10 درجة	ماهي العوامل التي تؤدي الى ضيق نطاق الاشراف، عددها؟	س5
10 درجة	ماهي مراحل اتخاذ القرار عددها؟	س6
ملاحظة: الاجابة على خمس اسئلة فقط		
دعائنا لكم بالنجاح والموفقية		

وتيسر قسم الجغرافية  
أ.م. د. محمد عطية صالح

2024 / 6 / 6


مدرس المادة

د. سعد حبيب غضبان

2024 / /



اسم المادة: جغرافية السكان  
الزمن: 3 ساعات  
التاريخ: ٢٠٢٤ / ٥ / ٢٠  
الدور: الاول  
نموذج رقم ( أ )



جمهورية العراق  
وزارة التعليم العالي والبحث العلمي  
جامعة تكريت  
كلية التربية للعلوم الإنسانية  
قسم الجغرافية  
المرحلة : الثانية

### اسئلة الامتحان النهائي للعام الدراسي 2023-2024

الدرجة	السؤال	رقم السؤال
10	املاً الفراغات التالية: 1- من اسباب انخفاض نسبة النوع في السكان هي ..... و ..... 2- اهم العوامل الطبيعية المؤثرة في توزع السكان وانتشارهم هي ..... و ..... و ..... 3- من انواع الهجرة الخارجية للسكان هي ..... و ..... و ..... و ..... 4- فئة السكان المعيلين هم عدد السكان بعمر ..... والمعالين هم بعمر ..... 5- عناصر النمو السكاني هي ..... و ..... و ..... و .....	س1
10	عرف ما يأتي: 1- جغرافية السكان 2- نسبة النوع 3- انهجرة الداخلية 4- الخصوبة السكانية 5- العمر الوسيط	س2
10	تكلم بالتفصيل عن نظرية التحول الديموغرافي.	س3
10	بلغ مجموع سكان محافظة صلاح الدين عام 2010 (1289000 نسمة) وفي عام 2023 (1664307 نسمة). احسب معدل النمو السنوي لسكان المحافظة ثم احسب حجم السكان المتوقع لعام 2030.	س4
10	ما هو دليل التعمر وكيف يتم حسابه؟ صنّف مجتمعات الدول الى فئات بحسب دليل التعمر لسكانها.	س5
10	وزع جغرافياً دول العالم بحسب معدلات الوفيات الخام لسكانها على اساس بيانات عام 2007.	س6

ملاحظة : الاجابة على خمسة اسئلة.

تمنياتي لكم .. النجاح والتفوق

23. 05. 2024

اسم وتوقيع رئيس القسم

أ.م.د. محمد عطية صالح

اسم وتوقيع مدرس المادة

أ.م.د. عبد الرزاق جاسم احمد


اسم المادة: Headway

الزمن: ثلاث ساعات

التاريخ: ٦/٦/ ٢٠٢٤

الدور: الأول

نموذج رقم ( ١ )



جمهورية العراق  
وزارة التعليم العالي والبحث العلمي  
جامعة تكريت  
كلية التربية للعلوم الانسانية  
قسم : الجغرافية  
المرحلة: الثانية

اسئلة الامتحان النهائي للعام الدراسي ٢٠٢٣-٢٠٢٤

Q4	<p><b>Match the following definitions with the correct letter (choose 5)</b></p> <p>1-The usual order in which you do things 2-The antonym of absent is 3-The behavior and beliefs of group of people 4-The synonym of beginning is 5-To make new product or idea successful 6- An area of a town or city is called</p> <p>a-custom b-district c-routine d-present e - start f- develop</p>	10
Q5	<p><b>complete the sentences use the following ;</b> (has (2) , have , is(2) , are ,where(2) , what , How )</p> <p>1-----do you live ? 2-Tony's sisters -----in school . 3-Tony ----- a good job . 4-----sports do you like ? 5-His brother ----- a teacher . 6----- many languages do you speak ? 7- we----- a big house . 8-Tony -----two sisters and one brother . 9-----do you come from? 10-our house -----in Manchester .</p>	10
Q6	<p><b>A- Give the synonyms of the following (choose any 5)</b></p> <p>1-difficult 2-afraid 3-confess</p> <p><b>B-Give the antonyms of the following</b></p> <p>1-accept 2-fast 3-active 4-female</p>	10

ملاحظة : الاجابة عن خمسة اسئلة فقط

مع تمنياتنا لكم بالنجاح والموفقية

6 06. 2024

اسم وتوقيع رئيس القسم  
أ.م.د. محمد عطية

مدرس المادة: Sara

س.م. سارة محمد عبد الله


اسم المادة: جغرافية الطاقة

الزمن: ثلاث ساعات

التاريخ: 2024/ 0 / 0

الدور: الأول

نموذج رقم (1)



جمهورية العراق  
وزارة التعليم العالي والبحث العلمي

جامعة تكريت

كلية التربية للعلوم الانسانية

قسم: الجغرافية

المرحلة: الثانية


## اسئلة الامتحان النهائي للعام الدراسي 2023-2024

ملاحظة: الاجابة عن خمسة اسئلة فقط

رقم السؤال	السؤال	درجة السؤال
1س	املأ الفراغات التالية بما يناسبها . 1- بدا انشاء خط بترولان في عام ..... 2- من منافذ تصدير البترول الكويتي هي ..... و..... و..... 3- تعد ..... اكثر الدول العاملة في مجال التنقيب عن البترول في اندوسيا في الفترة الأخيرة 4- يعد حقل ..... اهم حقول النرويج انتاجاً للبترول 5- يعد ميناء ..... اهم منافذ تصدير البترول الكويتي	10
2س	ضع كلمة (صح) امام العبارة الصحيحة وكلمة (خطأ) امام العبارة الخاطئة وضح الخطأ أينما وجد: 1- يقع حقل الرنقة على الحدود العراقية الكويتية. 2- يعد حقل كركوك المكتشف عام 1927 اقدم الحقول العراقية. 3- تعد مصر احد أعضاء منظمة الأوبك وتأتي في المركز الثامن في انتاج البترول 4- بدأت المملكة المتحدة في تصدير البترول عام 1981 وكانت معظم صادراتها الى كل من الولايات المتحدة وفرنسا و المانيا. 5- يتركز انتاج الفحم في اندونسيا في منطقة سومطرة وكليمتان	10
3س	تكلم عن حقول ومناطق انتاج البترول في الولايات المتحدة الامريكية وبشكل مفصل؟	10
4س	ما هو الفحم؟ وماهي انواعه تكلم عنها بشكل مفصل؟	10
5س	تكلم عن منظمة الأقطار المصدرة للبترول الأوبك؟	10
6س	تكلم عن مميزات الغاز الطبيعي وبشكل مفصل	10


مع تمنياتنا لكم بالنجاح والموفقية

اسم وتوقيع رئيس القسم  
أ.م.د. محمد عطية



مدرس المادة:  
م.م. حنين نزار مصلح سلطان

اسم المادة: علم نفس النمو  
الزمن: ٣ ساعات  
المرحلة: الثانية  
النموذج: ( أ )



جمهورية العراق  
وزارة التعليم العالي والبحث العلمي  
جامعة تكريت  
كلية التربية للعلوم الإنسانية  
قسم الجغرافيا

## أسئلة امتحانات النهائية للعام الدراسي 2023 - 2024

الدرجة	السؤال	الأسئلة/ ملاحظة: الإجابة عن خمسة أسئلة
١٠	س ١	اجب بعلامة صح او خطأ و صحح الخطأ إن وجد: ١- التصنيف هو يجمع الأشياء في مجموعات . ٢- الاحساسات هي اساس العلم. ٣- يقصد بالتنشأة الاجتماعية التأثير الذي يقع على الطفل من بيئته الخارجية . ٤- الحرمان الجزئي نتيجة فقدان الأم او بديلها بالموت او المرض . ٥- الإدراك الحسي هو عملية تمثيل العقل للاحاساسات .
١٠	س ٢	املاء الفراغات التالية بما يناسبها. ١- تكون الكربوهيدرات على نوعين ..... و ..... ٢- للأملاح المعدنية دور كبير في عملية ..... ٣- ..... سلسلة من العمليات المنظورة المتكافئة . ٤- مرحلة الطفولة المتأخرة تمتد من ..... الى ..... ٥- ..... هي الوحدة الاجتماعية في كل ثقافة .
١٠	س ٣	عرف خمسا مما يأتي : ١- النمو والنضج ٢- العدوان ٣- الابتكار ٤- التأويل والتفسير ٥- التصنيف ٦- الأعصاب
١٠	س ٤	عدد مراحل نمو التفكير عند البياجيه .
١٠	س ٥	اذكر عوامل ضعف الاستدلال وتعطيله مع شرح اثنين منها .
١٠	س ٦	ما هي خطوات التفكير في حل المشكلات ، اذكرها مع التوضيح .

مع أمنياتنا لكم بالنجاح

اسم وتوقيع رئيس القسم  
أ.م.د. رعد عتيق محمد  
أ.م.د. محمد عطية صالح  
رئيس قسم الجغرافية



اسم وتوقيع مدرس المادة  
أ.م.د. خميس ضاري الجبوري


اسم المادة: نظم المعلومات

الزمن: ثلاث ساعات

التاريخ: ٢٠٢٤ / ٦ / ٤

الدور: الاول

نموذج رقم (١)




جمهورية العراق  
وزارة التعليم العالي والبحث العلمي  
جامعة تكريت  
كلية التربية للعلوم الانسانية  
قسم: الجغرافية  
المرحلة: الرابعة

اسئلة الامتحان النهائي للعام الدراسي ٢٠٢٣-٢٠٢٤

رقم السؤال	السؤال	درجة السؤال
١٠	ضع علامة صح امام العبارة الصحيحة وعلامة خطأ امام العبارة الخاطئة ١- هناك عدة قواعد معلومات منها قواعد معلومات امنية وبيئية ٢- يقصد بالترقيم الالي للبيانات المكانية عملية التحويل من النظام الخوي (المساحي) الى النظام الخطي. ٣- يسمى ID في نظم المعلومات الجغرافية بكمية الظاهرة ٤- من اهم مصادر البيانات المساحية Raster في نظم المعلومات الجغرافية هي المسوحات الحقلية. ٥- ان نموذج الارتفاع الرقمي TIN هو الذي يستخدم في تشكيله شبكة المثلثات غير المنتظمة	١٠
١٠	أملأ الفراغات الاتية: ١- يمكن تعريف نظم المعلومات الجغرافية ب: ..... ٢- تتعدد طرق ربط البيانات منطقيا بثلاث علاقات هي :-: .....، .....، ..... ٣- يتوقف مدى نجاح او فشل تطبيق تقنية نظم المعلومات الجغرافية على توافر مجموعة من المتطلبات الاساسية :-: .....، .....، ..... ٤- الاستشعار عن بعد هو، ..... ٥- هناك مجموعة من الرموز تعبر عن الظواهر الجغرافية :-: .....، .....	١٠
١٠	عدد ما يأتي أ- ماهي الفوائد التي يقدمها الاستشعار عن بعد لنظم المعلومات الجغرافية؟ ب- ماهي المركبات الأساسية لنظم المعلومات الجغرافية	١٠
١٠	ماهي وظائف نظم المعلومات الجغرافية؟	١٠
١٠	بين خطوات التصحيح الاحداثي Georeferencing في برنامج ArcGIS	١٠
١٠	قارن بين البيانات المساحية والخطية؟	١٠


ملاحظة : اجب عن خمسة أسئلة فقط



اسم وتوقيع رئيس القسم  
د. محمد عطية خلف

مدرس المادة: أ.د. صديق مصطفى جاسم

اسم المادة: جغرافية الخدمات  
الزمن: 3 ساعات  
التاريخ: 2024 / 0 / 10  
الدور: الاول  
نموذج رقم (أ)



جمهورية العراق  
وزارة التعليم العالي والبحث العلمي  
جامعة تكريت  
كلية التربية للعلوم الإنسانية  
قسم الجغرافية  
المرحلة : الرابعة

## اسئلة الامتحان النهائي للعام الدراسي 2023-2024

الدرجة	السؤال	رقم السؤال
10	اكمل ما يأتي: 1- تقسم الخدمات حسب البعد المكاني الى ..... و ..... 2- المنهج ..... يهتم في تحديد الحاجات الموضوعية غير المرتبطة برغبات الافراد 3- من ابرز خدمات البنية التحتية هي ..... و ..... 4- تصاب الخدمة بالعجز والقصور لسببين هما ..... و ..... 5- حددت منظمة الصحة الدولية معيار ثابت (شخص / طبيب) وهو ..... شخص / طبيب	1س
10	تكلم عن اهمية الخدمات في حياة المدن.	2س
10	أ- عدد فقط اصناف الخدمات التعليمية. ب- عدد المناهج التي تعتمد في دراسة الخدمات وتكلم عن واحد منها.	3س
10	اجب بكلمة صح او خطأ ثم صحح الخطأ حيثما وجد. 1- من الممكن وضع مقياس ثابت لكل خدمة في جميع مدن العالم. 2- لا يمكن تقييم الخدمات الا من خلال تقييم مدى كفاءتها وكفايتها للنوع والكم. 3- تتأثر الخدمات بحجوم السكان دون تركيبهم النوعي والعمرى. 4- المعيار التخطيطي للمدارس الابتدائية في العراق (5000 نسمة / مدرسة) 5- يعد المناخ من اهم الظروف الطبيعية المؤثرة في توزيع الخدمات وتباينها المكاني.	4س
10	تكلم بالتفصيل عن التنظيم المكاني للخدمات.	5س
10	ماذا يقصد ببنية الخدمات وبنائها؟ وضحا بالتفصيل	6س

ملاحظة : الاجابة على خمسة اسئلة.

تمنياتي لكم .. النجاح والتفوق

اسم وتوقيع رئيس القسم

أ.م.د. محمد عطية صالح

اسم وتوقيع مدرس المادة

أ.م.د. عبد الرزاق جاسم احمد




اسم المادة: الجغرافية الاجتماعية

الزمن: ثلاث ساعات

التاريخ: ٢٠٢٤/٥

الدور: الاول

نموذج رقم ( ١ )



جمهورية العراق  
وزارة التعليم العالي والبحث العلمي

جامعة تكريت

كلية التربية للعلوم الانسانية

قسم : الجغرافية

المرحلة: الرابعة

### اسئلة الامتحان النهائي للعام الدراسي ٢٠٢٣-٢٠٢٤

رقم السؤال	السؤال	درجة السؤال
١س	ضع علامة صح امام العبارة الصحيحة وعلامة خطأ امام العبارة الخاطئة ثم صحح الخطأ أ. مايميز الجغرافية الاجتماعية هو الالتصاق الكامل بالبيئة او المكان ؟ ب. عرف واطسن الجغرافية الاجتماعية بأنها تحديد الاقاليم المختلفة على سطح الارض؟ ج. ان المشكلة الجغرافية هي ظاهرة غير طبيعية تحتاج الى اتخاذ حلول معينة؟ د. تعني الثقافة انها تشتمل على جميع النظم الاجتماعية التي يسير عليها الناس في حياتهم ؟ هـ. التباين المكاني هو الهدف الرئيسي للجغرافية الحضرية في الحضارات البشرية ؟	١٠
٢س	املأ الفراغات التالية بما يناسبها ١. تشمل عناصر البيئة الحضرية للإنسان جانبين رئيسيين هما _____ و _____ ٢. تعني الثقافة من الناحية الاجتماعية بنظر العالم وليام على انها _____ ٣. تقوم الجغرافية الحضرية بدراسة _____ باعتبارها مجالاً حيوياً لتيارات الهجرة السابقة ٤. ان الهدف الرئيسي للجغرافية الحضرية هو معرفة _____ للحضارات البشرية ٥. في حياه الشعوب الاسلامية كان لل _____ دوراً مهماً لبناء اي مدينة اسلامية	١٠
٣س	أ- عرف المنهج العلمي وثم عدد المناهج وبين ما علاقة مناهج البحث بالجغرافية الاجتماعية ب- وضح العلاقة بين الانثروبولوجيا والجغرافية الاجتماعية ثم بين الهدف الرئيس للأنثروبولوجيا	١٠
٤س	يساهم علم الجغرافية في حل المشكلات الاجتماعية من خلال عدة امور اذكرها؟	١٠
٥س	وضح مايتاتي: ١- اسباب ارتباط المشكلات الاجتماعية بالحضرية ؟ ٢- ماهي موضوعات الجغرافية الاجتماعية ؟	١٠
٦س	أ- ماذا تشمل جغرافية الاديان والمعتقدات ب- وضح علاقة الانسان بالبيئة	١٠

ملاحظة الاجابة عن خمسة اسئلة


مع تمنياتي لكم بالنجاح والموفقيه



اسم وتوقيع رئيس القسم  
أ.م.د. محمد عطية صالح

مدرس المادة:  
م.م. محمود ابراهيم خلف





اسئلة الامتحان النهائي للعام الدراسي ٢٠٢٣-٢٠٢٤

ملاحظة : الاجابة عن خمسة اسئلة فقط

رقم السؤال	السؤال	درجة السؤال
١ س	اختر البديل الصحيح للفقرات التالية ١. أن إصدار التقويم المعياري لدرجة الطالب يتطلب مقارنة هذه الدرجة ب: أ- نفسه وزملائه. ب- زملائه. ج- محك. د- النسبة لتحقيق الأهداف. ٢. التقويم يجرى في بداية البرنامج التعليمي هو التقويم: أ- تمهيدي. ب- ختامي. ج- بنائي. د- اولي ٣. أن الوصف الكمي للسلوك يعرف ب: أ- التقويم. ب- المقياس. ج- القياس. د- الاختبار. ٤. أن مقارنة أداء الطالب بمستوى ثابت من الأداء محدد مسبقا هو تقويم: أ- معياري. ب- بنائي. ج- محكي. د- ختامي ٥. نقصد بالاستيعاب * القدرة على التحليل * القدرة على الصياغة * القدرة تفسير وصياغة المعارف بلغته الخاصة	١٠
٢ س	ضع علامة (صح) أو (خطأ) أمام العبارات التالية:- ١. القياس النفسي والتربوي تام. * ٢. يعتبر التقويم سابق للقياس وأساس له. * ٣. نوع الأسئلة من ضمن العوامل التي تتحكم بطول الاختبار. صح ٤. لا تحتاج الاختبارات الشفوية إلى وقت طويل في إجرائها. * ٥. القياس النفسي والتربوي قياس كمي. صح	١٠
٣ س	هنالك اساليب و طرق فعالة لتحسين الاختبارات الشفوية تكلم عنها؟	١٠
٤ س	تكلم عن الاختبارات التحريرية وبين انواعها؟	١٠
٥ س	الاختبارات العملية هي احد انواع الاختبارات التي تستخدم لقياس اهداف معينة ، بين تلك الاهداف مع ذكر مثال عن هذا النوع من الاختبارات ؟	١٠
٦ س	تكلم عن التطور التاريخي للاختبارات وماهي اسباب نشاتها؟	١٠

مع تمنياتنا لكم بالنجاح والموفقية

اسم وتوقيع رئيس القسم  
أ.م.د. محمد عطية

مدرس المادة:  
د. عبير دهام كاظم




اسم المادة: جغرافية العراق

الزمن: ثلاث ساعات

التاريخ: ٢٦ / ٥ / ٢٠٢٤

الدور: الاول

نموذج رقم ( ١ )



جمهورية العراق  
وزارة التعليم العالي والبحث العلمي

جامعة تكريت

كلية التربية للعلوم الانسانية

قسم : الجغرافية

المرحلة: الرابعة

## اسئلة الامتحان النهائي للعام الدراسي ٢٠٢٣-٢٠٢٤

رقم السؤال	السؤال	درجة السؤال
١ س	عرف لخمس ما يأتي 1. التساقط 2. الهجرة الخارجية 3. كثبان السهل الرسوبي 4. النباتات الحولية 5. النمط المبعثر 6. دلتا النهر	١٠
٢ س	ضع كلمة (صح) او (خطا) ثم صحح العبارات الخاطئة <u>خمس فقط</u> 1. اثر موقع العراق بالنسبة لخطوط الطول على كمية سقوط الاشعاع الشمسي الواصلة الى السطح الارض. <input checked="" type="checkbox"/> 2. يعد الرعي الجائر من اهم الاسباب الطبيعية في ظاهرة تصحر اراضي المراعي الطبيعية. <input checked="" type="checkbox"/> 3. تتركز تربية الماعز بصورة خاصة في المنطقة الشمالية وذلك لقدرته على التكيف مع الظروف البيئية. <input checked="" type="checkbox"/> 4. تتسم الرياح الشرقية والشمالية الغربية بانخفاض درجه حرارتها وجفافها. 5. معظم كميات التساقط تكون على صورة مطر. <input checked="" type="checkbox"/> 6. تربة سهل الدلتا الرسوبية المالحة تنتشر في المنطقة الجنوبية من السهل الرسوبي.	١٠
٣ س	أجب عن فرعين : 1. ماهي العوامل المؤثرة في مناخ العراق مع الشرح واحدة؟ 2. ماهي مشاريع الري والسيطرة والخزن عددها؟ 3. ماهي اسباب وصف مناخ العراق بشبه المداري والقاري؟	٥ ٥ ٥
٤ س	ارسم خريطة العراق مبينا عليها الاتي : أ. الموقع الفلكي ب. اتجاه تأثير كتل الهوائية MT / د. أقسام سطح العراق الرئيسية؟	١٠
٥ س	اختر الاجابة الصحيحة لخمس مما يأتي: ١. .... تقع في الجزء الجنوبي الغربي من الهضبة الغربية الى الجنوب من منطقة الوديان . الوديان _ منطقه الدببة _ منطقه الحجارة ) ٢. أن عوامل المناخ السائدة في القطر تعد من اهم العوامل المؤثرة في التصحر بسبب ..... (الامطار المستمرة ارتفاع درجات الحرارة _ تدهور تركيب التربة ) ٣. .... وهو مناخ انتقالي يسود في المنطقة شبة الجبلية ويمتد على شكل شريط. أقليم المناخ شبة الرطب _ أقليم مناخ شبه الجاف _ أقليم المناخ الجاف ) ٤. تعود تربية ..... في العراق في المراعي الجبلية والسهول والاراضي البور وتقتات على فضلات المحاصيل الزراعيه. ( الابقار _ الماعز _ الاغنام ) ٥. أن الزيادة في عدد السكان من التعداد الاخير معناه زياده في الولادات على الوفيات وهذا يسمى ..... ( الزيادة الطبيعية _ التركيب السكاني _ الزيادة النسبية ) ٦. تعتمد نوعية المياه الجوفية وكميتها وتوزيعها الجغرافي على عدة عوامل منها ..... ( المناخ وشكل التضاريس _ المنطقة الجبلية _ المنطقة المتموجة )	١٠

مع تمنياتي لكم بالنجاح

اسم وتوقيع رئيس القسم  
ا.م.د محمد عطيه صالح



مدرس المادة:  
م.م مروان مبدر ناجي